

Итоговая контрольная работа по физике для 10 класса

Инструкция по выполнению работы

Для выполнения работы по физике отводится 40 минут. Работа состоит из 3 частей, включающих 10 заданий. Часть 1 содержит 7 заданий (А1–А7). К каждому заданию дается 4 варианта ответа, из которых правильный только один. Часть 2 содержит 2 задания (В1, В2), часть 3 состоит из 1 задачи (С1), для которых требуется дать развернутые решения. При вычислениях разрешается использовать непрограммируемый калькулятор. Внимательно прочитайте каждое задание и предлагаемые варианты ответа, если они имеются. Отвечайте только после того, как вы поняли вопрос и проанализировали все варианты ответа. Выполняйте задания в том порядке, в котором они даны. Если какое-то задание вызывает у вас затруднение, пропустите его. К пропущенным заданиям можно будет вернуться, если у вас останется время. Баллы, полученные вами за выполненные задания, суммируются. Постарайтесь выполнить как можно больше заданий и набрать наибольшее количество баллов.

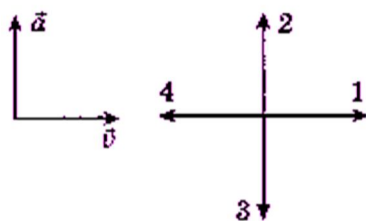
Желаем успеха!

1 вариант

А.1 Автомобиль, трогаясь с места, движется с ускорением 3 м/с^2 . Через 4 с скорость автомобиля будет равна

- 1) 12 м/с 2) 0,75 м/с 3) 48 м/с 4) 6 м/с

А.2 На левом рисунке представлены векторы скорости и ускорения тела в инерциальной системе отсчета. Какой из четырех векторов на правом рисунке указывает направление вектора равнодействующей всех сил, действующих на это тело?



- 1) 1 2) 2 3) 3 4) 4

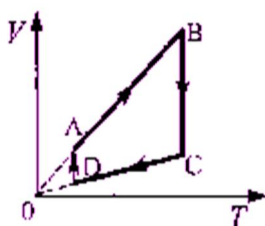
А.3 Импульс тела, движущегося по прямой в одном направлении, за 3с под действием постоянной силы изменился на $6 \text{ кг} \cdot \text{м/с}$. Каков модуль действующей силы?

- 1) 0,5 Н 2) 2 Н 3) 9 Н 4) 18 Н

A.4 Камень массой 0,2 кг, брошенный вертикально вверх скоростью 10 м/с, упал в том же месте со скоростью 8 м/с. Найдите работу сил сопротивления воздуха за время движения камня.

- 1) 1,8 Дж 2) -3,6 Дж 3) -18 Дж 4) 36 Дж

A.5 На рисунке показан цикл, осуществляемый с идеальным газом. Количество вещества газа не меняется. Изобарному нагреванию соответствует участок



- 1) AB 2) BC 3) CD 4) DA

A.6 За 1 цикл рабочее тело теплового двигателя совершило работу 30 кДж и отдало холодильнику 70 кДж количества теплоты. КПД двигателя равен

- 1) 70% 2) 43% 3) 30% 4) 35%

A.7 Сила, с которой взаимодействуют два точечных заряда, равна F . Какой станет сила взаимодействия, если величину каждого заряда уменьшить в 2 раза?

- 1) $4F$ 2) $\frac{F}{2}$ 3) $2F$ 4) $\frac{F}{4}$

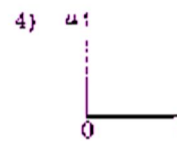
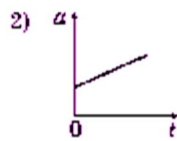
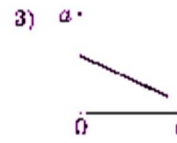
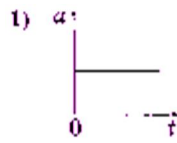
B.1 Автомобиль массой 2 т движется по выпуклому мосту, имеющему радиус кривизны 200 м, со скоростью 36 км/ч. Найдите силу нормального давления в верхней точке траектории.

B.2 Для изобарного нагревания газа, количество вещества которого 800 моль, на 500 К ему сообщили количество теплоты 9,4 МДж. Определить приращение его внутренней энергии.

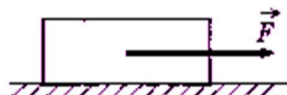
C.1 Двигаясь между двумя точками в электрическом поле, электрон приобрел скорость $V = 2000$ км/с. Чему равно напряжение между этими точками $m_e = 9,1 \times 10^{-31}$ кг, $e = 1,6 \times 10^{-19}$ Кл.

2 вариант

A.1 На рисунках изображены графики зависимости модуля ускорения от времени для разных видов движения по прямой. Какой график соответствует равномерному движению?



A.2 Тело массой 1 кг равномерно и прямолинейно движется по горизонтальной плоскости. На тело действует сила $F = 2\text{ Н}$. Каков коэффициент трения между телом и плоскостью?



- 1) 2 2) 1 3) 0,5 4) 0,2

A.3 Чему равно изменение импульса тела, если на него в течение 5 с действовала сила 15 Н?

- 1) 3 кг·м/с 2) 5 кг·м/с 3) 15 кг·м/с 4) 75 кг·м/с

A.4 Камень брошен вертикально вверх со скоростью 10 м/с. На какой высоте кинетическая энергия камня равна его потенциальной энергии?

- 1) 2,5 м 2) 3,5 м 3) 1,4 м 4) 3,2 м

A.5 В сосуде, закрытом поршнем, находится идеальный газ. Процесс изменения состояния газа показан на диаграмме. Как менялся объем газа при его переходе из состояния А в



состояние В?

- 1) все время увеличивался
- 2) все время уменьшался
- 3) сначала увеличивался, затем уменьшался
- 4) сначала уменьшался, затем увеличивался

А.6 Температура нагревателя идеальной машины Карно 700 К, а температура холодильника 420 К. Каков КПД идеальной машины?

- 1) 60%
- 2) 40%
- 3) 30%
- 4) 45%

А.7 Расстояние между двумя точечными зарядами уменьшили в 4 раза. Сила электрического взаимодействия между ними

- 1) уменьшилась в 16 раз
- 2) увеличилась в 16 раз
- 3) увеличилась в 4 раза
- 4) уменьшилась в 4 раза

В.1 Масса поезда 3000 т. Коэффициент трения 0,02. Какова должна быть сила тяги паровоза, чтобы поезд набрал скорость 60 км/ч через 2 мин после начала движения? Движение при разгоне поезда считать равноускоренным.

В.2 Чему равна молярная масса газа, плотность которого $0,2 \text{ кг/м}^3$, температура 250 К, давление 19 кПа?

С.1 Электрон, начальная скорость которого равна нулю, начал двигаться в однородном поле напряженностью 1,5 В/м. На каком расстоянии его скорость возрастает до 2000 км/с?
 $m_e = 9,1 \times 10^{-31} \text{ кг}$, $e = 1,6 \times 10^{-19} \text{ Кл}$.